

注 意 事 項

1. 試験問題の数は 150 問で解答時間は正味 2 時間 45 分である。
2. 解答方法は次のとおりである。
 - (1) 各問題には 1 から 4 までの四つの答えがあるので、そのうち質問に適した答えを一つ選び、次の例にならって答案用紙に記入すること。

(例) 〔問題 201〕 県庁所在地はどれか。

1. 栃木市
2. 川崎市
3. 神戸市
4. 倉敷市

正解は「3」であるから答案用紙の ③ をマークすればよい。

答案用紙①の場合、

201	①	②	③	④
201	①	②	●	④

答案用紙②の場合、

201	201
①	①
②	②
③	→ ●
④	④

- (2) 1 問に二つ以上解答した場合は誤りとする。

〔問題 1〕 我が国の平成 16 年(2004 年)の老年人口(65 歳以上)の構成割合に最も近いのはどれか。

1. 15 %
2. 20 %
3. 25 %
4. 30 %

〔問題 2〕 介護保険制度で居宅サービスの支給限度基準額が最も高いのはどれか。

1. 要介護 1
2. 要介護 5
3. 要指導
4. 要支援

〔問題 3〕 我が国の平成 16 年(2004 年)の死亡総数に対する悪性新生物の割合に最も近いのはどれか。

1. 10 %
2. 20 %
3. 30 %
4. 40 %

〔問題 4〕 国民健康保険に加入している 50 歳本人の自己負担割合はどれか。

1. な し
2. 1 割
3. 2 割
4. 3 割

〔問題 5〕 患者の自己決定に最も関与するのはどれか。

1. 父権主義
2. 医師の裁量権
3. コンプライアンス
4. インフォームド・コンセント

〔問題 6〕 安全の欲求を充足するための行動はどれか。

1. 名誉の獲得
2. 危険の回避
3. 社会への貢献
4. 生きがいの追求

〔問題 7〕 胎盤が完成する妊娠週数はどれか。

1. 12 週
2. 16 週
3. 20 週
4. 24 週

〔問題 8〕 初経を発生させるホルモンはどれか。

1. 卵胞ホルモン
2. 抗利尿ホルモン
3. 副腎皮質ホルモン
4. 甲状腺刺激ホルモン

〔問題 9〕 老年期の感覚変化はどれか。

1. 味覚は敏感になる。
2. 痛みを感じやすくなる。
3. 明暗の変化に順応しやすくなる。
4. 聴力の低下は高音域から始まる。

〔問題 10〕 医療法に規定されている病院とは何人以上の患者を入院させる施設か。

1. 10人
2. 20人
3. 50人
4. 100人

〔問題 11〕 血液凝固に関連するのはどれか。

1. ヘモグロビン
2. フィブリノゲン
3. マクロファージ
4. エリスロポエチン

〔問題 12〕 腎機能の指標はどれか。

1. AST(GOT)
2. 尿ビリルビン
3. 尿素窒素(BUN)
4. 血清アミラーゼ

〔問題 13〕 脊柱で椎骨が5個なのはどれか。

1. 頸 椎
2. 胸 椎
3. 腰 椎
4. 尾 骨

〔問題 14〕 正期産とされる妊娠週数はどれか。

1. 33 週
2. 36 週
3. 39 週
4. 42 週

〔問題 15〕 徐脈性不整脈で起こりやすいのはどれか。

1. 失 明
2. 失 神
3. 失 語
4. 失 認

〔問題 16〕 全身性浮腫で起こる変化はどれか。

1. 食欲亢進
2. 体重増加
3. 色素沈着
4. 眼球突出

〔問題 17〕 不足すると貧血になるのはどれか。

1. ビタミン A
2. ビタミン B₁₂
3. ビタミン D
4. ビタミン E

〔問題 18〕 出血性ショックで起こるのはどれか。

1. 体温の上昇
2. 尿量の増加
3. 血圧の低下
4. 皮膚の紅潮

〔問題 19〕 空気感染するのはどれか。

1. 結核
2. 腸チフス
3. HIV 感染症
4. ウイルス性肝炎

〔問題 20〕 経口与薬するワクチンはどれか。


1. 麻疹
2. 風疹
3. ジフテリア
4. 急性灰白髄炎(ポリオ)

〔問題 21〕 骨髄抑制が出現するのはどれか。

1. 麻 薬
2. 利尿薬
3. 抗癌薬
4. インスリン製剤


〔問題 22〕 薬事法による毒薬の表示はどれか。

1.




黒地, 白枠, 白字

2.




白地, 黒枠, 黒字

3.



黒地, 枠なし, 白字

4.



白地, 枠なし, 黒字

〔問題 23〕 狭心症発作時の硝酸薬(ニトログリセリン)の適切な使用法はどれか。

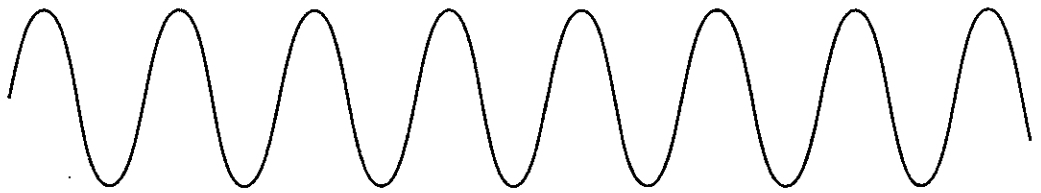
1. 内 服
2. 舌 下
3. 皮膚貼用
4. 筋肉内注射

〔問題 24〕 意識レベルを評価するのはどれか。

1. クレペリンテスト
2. ブレーデンスケール
3. ロールシャッハテスト
4. グラスゴー・コーマ・スケール

〔問題 25〕 呼吸のパターンでチェーン・ストークス呼吸はどれか。


1.



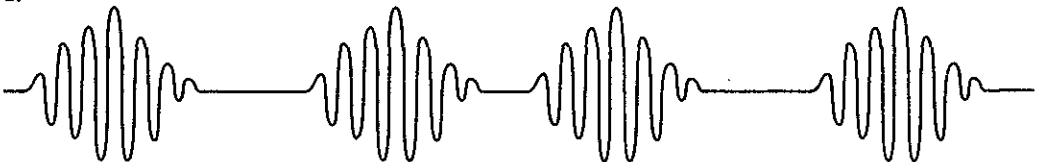
2.



3.



4.



〔問題 26〕 立位を最も安定させる足の位置はどれか。

1.




2.



3.



4.



〔問題 27〕 250 mg/5 ml と表記された注射薬を 200 mg 与薬するのに必要な薬液量はどれか。

1. 1 ml
2. 2 ml
3. 3 ml
4. 4 ml

〔問題 28〕 スタンダードプリコーションで予防するのはどれか。

1. 誤薬
2. 患者誤認
3. 院内感染
4. 転倒・転落

〔問題 29〕 膀胱留置カテーテルの固定用バルーンに入れるのはどれか。

1. 水道水
2. エタノール
3. 滅菌蒸留水
4. 滅菌グリセリン

〔問題 30〕 一次救命処置はどれか。

1. 気管挿管
2. 酸素吸入
3. 静脈路の確保
4. 心臓マッサージ

〔問題 31〕 被用者保険でないのはどれか。

1. 船員保険
2. 国民健康保険
3. 政府管掌健康保険
4. 組合管掌健康保険

〔問題 32〕 老人保健法に基づく保健事業はどれか。

1. 基本健康診査
2. 老人短期入所事業
3. 特別養護老人ホームの開設
4. 高齢者へのインフルエンザ予防接種

〔問題 33〕 配偶者からの暴力の防止及び被害者の保護に関する法律で、看護師が業務上、配偶者の暴力によって負傷したと認められる者を発見した際の通報先はどれか。

- a. 警察署
- b. 家庭裁判所
- c. 福祉事務所
- d. 配偶者暴力相談支援センター

1. a、b 2. a、d 3. b、c 4. c、d

〔問題 34〕 児童相談所の業務はどれか。

- 1. 育成医療の給付
- 2. 保育所への入所事務
- 3. 児童福祉施設の監査
- 4. 児童の心身障害に関する相談

〔問題 35〕 介護予防の目的でないのはどれか。

- 1. 介護者の負担の軽減
- 2. 介護保険給付費の抑制
- 3. 介護サービスの地域格差の是正
- 4. 自立した生活を送れる期間の延長

〔問題 36〕 15歳から49歳までの女性の年齢別出生率の総和はどれか。

- 1. 総再生産率
- 2. 純再生産率
- 3. 粗出生率
- 4. 合計特殊出生率

〔問題 37〕 感染症の予防及び感染症の患者に対する医療に関する法律で平成 15 年 (2003 年)に感染症として追加されたのはどれか。

1. インフルエンザ
2. 後天性免疫不全症候群
3. 腸管出血性大腸菌感染症
4. 重症急性呼吸器症候群(SARSコロナウイルスであるもの)

〔問題 38〕 医療機関から廃棄される血液の付着したガーゼが該当するのはどれか。

1. 一般廃棄物
2. 産業廃棄物
3. 放射性廃棄物
4. 感染性一般廃棄物

〔問題 39〕 医師の指示のもとに看護師が行うことができるのはどれか。

1. 診断書の作成
2. 内服薬の調剤
3. 静脈内注射の実施
4. 人体への放射線照射

〔問題 40〕 看護における人間のとらえ方で適切でないのはどれか。

1. 環境と相互作用する。
2. 共通性と個別性をもつ。
3. 身体と精神は互いに影響しあう。
4. 生涯同じ速さで成長・発達する。

〔問題 41〕 一次予防はどれか。

1. 社会復帰への支援
2. 疾病の早期発見と治療
3. 健全な生活習慣づくり
4. 低下した生活能力への援助

〔問題 42〕 看護師の倫理に含まれないのはどれか。

1. 経営利益を上げる努力
2. 患者への情報提供の責任
3. 専門職としての品位の保持
4. 専門的知識・技術の適正な使用

〔問題 43〕 看護計画の目標達成の評価で適切なのはどれか。

1. 評価指標を用いて達成度を判定する。
2. 受持ち看護師の満足度で評価する。
3. 最初に設定した評価日は変更しない。
4. 数値化できないものは評価に用いない。

〔問題 44〕 コミュニケーションにおけるラポールはどれか。

1. 信頼し合う関係
2. 言語を用いない表現
3. 侵されたくない空間
4. 意図的な身体への接触

〔問題 45〕 個別指導と比較したグループワークを用いた指導の利点はどれか。

1. 参加者個々への助言がしやすい。
2. 参加者の持つ体験を活用しやすい。
3. 参加者との深い関係をつくりやすい。
4. 参加者の目標達成度を評価しやすい。

〔問題 46〕 病院内の医療安全管理で誤っているのはどれか。

1. インシデント報告を分析して問題を抽出する。
2. 事故につながりやすい業務上の要因を明らかにする。
3. 異なる職種間で情報を共有できるシステムを構築する。
4. 発生した事故はその日病棟に勤務している看護師で解決する。

〔問題 47〕 人工呼吸器装着中の管理で適切なのはどれか。

1. 口腔ケア時にはカフ圧を下げる。
2. 加温加湿器には水道水を補給する。
3. アンビューバッグをそばに置いておく。
4. 誤作動が続く時はアラームを消音にする。

〔問題 48〕 血圧測定で収縮期血圧が本来の値より高く測定されるのはどれか。

1. 血圧計を床頭台に置いて測る。
2. 幅の狭いマンシェットを用いる。
3. 巻き上げた袖が腕を圧迫している。
4. 減圧を 10 mmHg/秒で行う。

〔問題 49〕 情報収集で適切なのはどれか。

1. 質問の順序はどんな状況でも変えない。
2. 質問は専門用語を用いるようにする。
3. 閉ざされた質問で聴取するように心がける。
4. 観察した非言語的な行動も情報になる。

〔問題 50〕 実施時に最も高い照度を必要とするのはどれか。

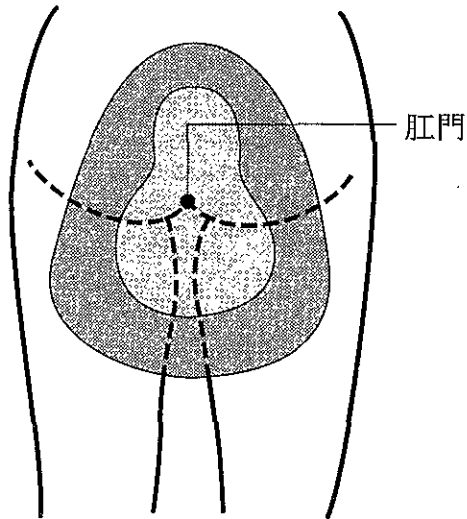
1. 全身清拭
2. 高圧浣腸
3. 口腔吸引
4. 腰椎穿刺

〔問題 51〕 嚥下障害のある患者の食事の工夫で適切なのはどれか。

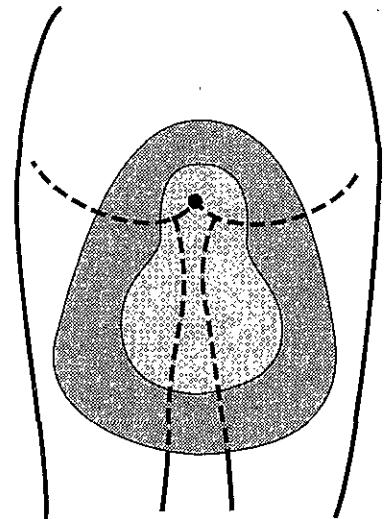
1. 固い食材は細かく刻む。
2. 汁物には増粘剤を加える。
3. 冷菜は人肌程度に温める。
4. 一口量はティースプーン半分を目安にする。

〔問題 52〕 女性患者の床上排泄における便器のあて方で適切なのはどれか。

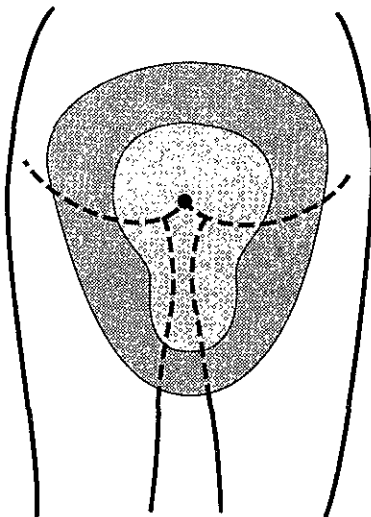
1.



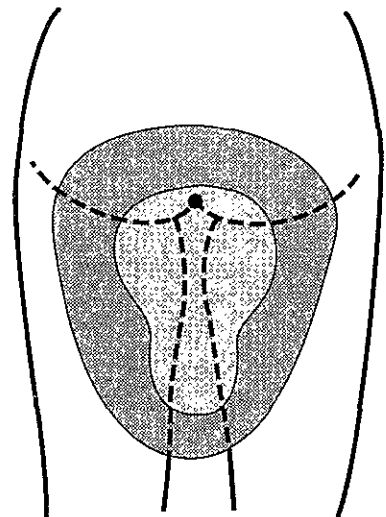
2.



3.



4.



〔問題 53〕 グリセリン浣腸時の体位で腸管穿孔の危険性が最も高いのはどれか。

1. 立位
2. 側臥位
3. 仰臥位
4. シムス位

〔問題 54〕 車いすでの移送で適切なのはどれか。

1. コーナー ————— 大車輪を浮かせて曲がる。
2. 段 差 ————— 前輪を浮かせて上がる。
3. 急な下り坂 ——— 前向きにまっすぐ下る。
4. 電車内 ————— 車内の座席に移乗する。

〔問題 55〕 死後の処置で適切なのはどれか。

1. 処置には家族を参加させない。
2. 処置には死亡診断書が必要である。
3. 腹部を圧迫して排泄物を排出する。
4. 挿入中のチューブ類は束ねてガーゼで覆う。

〔問題 56〕 点滴静脈内注射 500 ml/ 2 時間の指示があった。

15 滴で約 1 ml の輸液セットを使用した場合、1 分間の滴下数で適切なのはどれか。

1. 30
2. 60
3. 120
4. 180


〔問題 57〕 腹腔穿刺で腹水排液中に患者が顔面蒼白になった。

対応で適切なのはどれか。


1. 腹式呼吸を促す。
2. 排液を中止する。
3. 頭の位置を高くする。
4. 排液チューブをミルクングする。

〔問題 58〕 三角巾による堤肘固定で適切なのはどれか。


1.




2.



3.



4.



〔問題 59〕 全身浴と比較して半身浴で循環機能の負担が軽減される理由はどれか。

1. 温熱作用
2. 浮力作用
3. 発汗作用
4. 静水圧作用

〔問題 60〕 心電図モニターの管理で適切なのはどれか。

1. 電極はかぶれ予防シールの上に装着する。
2. 双極誘導法では電極は3か所に装着する。
3. モニター中は仰臥位を保持する。
4. 交流波形が出た時は力を抜くように促す。

〔問題 61〕 災害時のトリアージカラーで最優先治療群はどれか。

1. 黒
2. 赤
3. 黄
4. 緑

〔問題 62〕 看護方式とその説明との組合せで正しいのはどれか。

1. モジュール型 ————— 1人の看護師が毎日異なる患者を担当する。
2. チームナーシング ————— 看護に必要な業務を係を決めて割り当てる。
3. 機能別看護 ————— 1つの看護単位がリーダーの下で看護を行う。
4. プライマリナーシング ————— 1人の看護師が特定の患者を継続的に担当する。

〔問題 63〕 都道府県ナースセンターの事業はどれか。

1. 無料での職業紹介
2. 病院等への財政上の助成
3. 看護師等確保推進者の設置
4. 看護師等就業協力員の委嘱

〔問題 64〕 訪問看護ステーションの利用理由で最も多い疾患はどれか。

1. 糖尿病
2. 骨粗鬆症
3. 脳血管疾患
4. 統合失調症

〔問題 65〕 自宅への退院が予定されている全介助が必要な 95 歳の女性。70 歳の娘と 2 人暮らし。退院前のカンファレンスに訪問看護師が参加した。

訪問看護師が行うのはどれか。

1. 要介護認定の申請
2. 介護用ベッドの購入
3. かかりつけ医の決定
4. 介護力の査定

〔問題 66〕 ノルウェー疥癬と診断された在宅療養者。

介護者への指導で適切なのはどれか。

1. 療養者のケアには手袋を用いる。
2. 入浴はデイサービスを利用する。
3. 衣類は家族の物と一緒に洗ってよい。
4. かゆみには副腎皮質ステロイド剤を塗布する。

〔問題 67〕 娘夫婦と3人暮らしの寝たきり高齢者。会話は可能。介護している娘は交換後のオムツをベッド上に放置している。娘は「最近世話をしているとイライラする。夫とろくに話をする時間がない。もう母の顔も見たくない」と訪問看護師に訴えた。

介護者の状況で最も考えられるのはどれか。

1. 夫への不満
2. 強度の心身の疲労
3. 母への身体的虐待
4. オムツを購入できない経済状況

〔問題 68〕 左片麻痺で、杖歩行している在宅高齢者。

転倒予防のための家族への指導で適切なのはどれか。

1. 廊下に物を置かない。
2. 玄関にマットを敷く。
3. 室内ではスリッパを履く。
4. 室内では4点杖は使わない。

〔問題 69〕 在宅酸素療法(2l/分 24時間)を行っている療養者の居住地域で1週後に日中3時間の停電が予定されている。

停電への対応で最も適切なのはどれか。

1. 事前の呼吸訓練
2. 携帯用酸素ボンベの使用
3. 自家発電器の購入
4. 医療機関への入院