

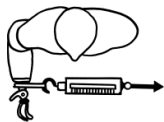
第53回作業療法士国家試験における採点除外等の取扱いをした問題について

午前 第5問

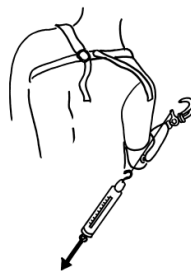
- 5 上腕能動義手の適合検査において、コントロールケーブルシステムの操作効率を
チェックする計算式を以下に示す。

$$\text{コントロールケーブルシステムの操作効率(\%)} = \frac{A}{B} \times 100$$

Aにあたる計測はどれか。



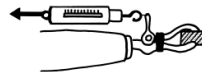
1



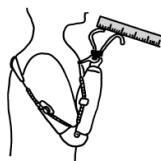
2



3



4



5

採点上の取扱い

採点対象から除外する。

理 由

設問が不適切で正解が得られないため。